

Система оценивания диагностической работы по истории

Каждое из заданий 1, 2, 4, 6 и 7 считается выполненным верно, если правильно указаны цифра, последовательность цифр или слово (словосочетание).

Полный правильный ответ на каждое из заданий 2, 4, 7 оценивается 1 баллом; неполный, неверный ответ или его отсутствие – 0 баллов.

За верный ответ на задания 1 и 6 выставляется 2 балла. Если в ответе допущена одна ошибка (в том числе написана лишняя цифра или не написана одна необходимая цифра), выставляется 1 балл; если допущено две или более ошибки – 0 баллов.

№ задания	Ответ
1	451
2	регентство
4	Иван Четвёртый; Иван Грозный
6	23;32
7	3

Критерии оценивания заданий с развернутым ответом

«В пятый год его царствования был поход в немецкую землю с большим войском, и взял он Ивангород, и многие другие крепости, и величайшую крепость Ревель; немцы заключили мир и обещались сему царю давать в год половину доходов этого города. Взяли и самую крепость, но, при посредничестве великого боярина Бориса Годунова, не удержали её, так как он ходатайствовал пред царём, ибо взял за это богатые дары, как потом говорили некоторые. И таким образом, царь возвратился в Москву с великою победою. За пять миль перед Москвою вышел к нему навстречу весь народ великого града Москвы: мужи и жёны, юноши и старцы, малые и большие, – радуясь и веселясь по поводу возвращения доброго и тишайшего великого царя».

3

Назовите царя, упоминаемого в отрывке.





Ответ: _____

Укажите век, к которому относятся описываемые в отрывке события.

Содержание верного ответа и указания по оцениванию (допускаются иные формулировки ответа, не искажающие его смысла)	Баллы
Правильный ответ должен содержать следующие <u>элементы</u> : 1) <u>царь</u> – Фёдор, Фёдор Иоаннович; 2) <u>век</u> – XVI в.	
Правильно назван царь и указан век	2
Правильно указан любой один элемент ответа	1
Ответ неправильный	0
<i>Максимальный балл</i>	2

5

Подпишите на карте города Казань и Астрахань.

Содержание верного ответа и указания по оцениванию	Баллы
 <p>  Походы русских войск  Территория России в начале царствования  Границы Российского государства к концу века </p>	
В обозначении объектов на контурной карте допустимы небольшие отклонения, связанные с недостаточной аккуратностью участников ВПР	
Правильно подписаны города Казань и Астрахань	2
Правильно подписана только Казань. ИЛИ Правильно подписана только Астрахань	1
Оба объекта подписаны неправильно. ИЛИ Задание не выполнено	0
<i>Максимальный балл</i>	2

8

Укажите время, с точностью до половины века, когда в России были введены заповедные лета. Укажите одно любое событие (процесс) из истории зарубежных стран, относящееся к той же половине века. Не следует указывать событие (процесс) из истории международных отношений, одной из сторон которого была Россия.

Содержание верного ответа и указания по оцениванию (допускаются иные формулировки ответа, не искажающие его смысла)	Баллы
<p>Правильный ответ должен содержать следующие элементы:</p> <p>1) <u>время с точностью до половины века</u>: вторая половина XVI в.;</p> <p>2) <u>событие (процесс) из истории зарубежных стран, произошедшее во второй половине XVI в.</u>, например: разгром Непобедимой армады.</p> <p>Может быть указано другое событие (процесс).</p> <p>В случае указания события из истории международных отношений, одной из сторон которого была Россия, ответ не принимается.</p>	
Правильно указаны время с точностью до половины века, событие (процесс) истории зарубежных стран	2
<p>Правильно указано только время с точностью до половины века.</p> <p>ИЛИ Правильно указано только событие (процесс) истории зарубежных стран, произошедшее в той же половине века, в которой произошло указанное в задании событие истории России</p>	1
Ответ неправильный	0
<i>Максимальный балл</i>	2

9

Какой из приведённых исторических фактов можно использовать для аргументации следующей точки зрения: «В ходе опричнины Иван IV пытался устранить угрозы для своей власти»? Укажите порядковый номер этого факта в списке.

- 1) отмена кормлений
- 2) гибель князя Владимира Старицкого
- 3) созыв первого Земского собора

Ответ:

Объясните, как с помощью выбранного Вами факта можно аргументировать данную точку зрения.

Содержание верного ответа и указания по оцениванию (допускаются иные формулировки ответа, не искажающие его смысла)	Баллы
Правильный ответ должен содержать следующие <u>элементы</u> : 1) <u>порядковый номер факта</u> – 2; (При оценивании в качестве правильного принимается также указание факта, а не его номера.) 2) <u>объяснение</u> , например: Иван IV считал, что Владимир Старицкий может предпринять попытки для захвата власти и приказал его казнить. (Может быть приведено иное, близкое по смыслу объяснение.)	
Правильно указан порядковый номер факта и приведено объяснение	3
Правильно указан порядковый номер факта. Объяснение содержит неточность(-и), существенно не искажающую(-ие) содержание ответа. ИЛИ Правильно указан порядковый номер факта. Дано неполное объяснение, в котором пропущено(-ы) положение(-я), которое(-ые) важно(-ы) для объяснения	2
Правильно указан порядковый номер факта. Объяснение сформулировано на уровне быденных представлений, без привлечения исторических фактов. ИЛИ Правильно указан только порядковый номер факта. Вместо объяснения приведены рассуждения общего характера, не соответствующие требованию задания. ИЛИ Правильно указан только порядковый номер факта	1
Порядковый номер факта указан неправильно / не указан независимо от наличия объяснения. ИЛИ Задание не выполнено	0
Максимальный балл	3

10

Укажите с точностью до десятилетия время, когда совершил подвиг Иван Сусанин. Укажите российского монарха, избранного на престол в этот период. Приведите один любой факт, характеризующий подвиг Ивана Сусанина.

Содержание верного ответа и указания по оцениванию (допускаются иные формулировки ответа, не искажающие его смысла)	Баллы
Правильный ответ должен содержать следующие <u>элементы</u> : 1) <u>время</u> : 1610-е гг.; 2) <u>монарх</u> : Михаил Романов; 3) <u>факт</u> , например: Иван Сусанин завёл польский отряд в непроходимые болота. Может быть приведён другой факт	
Правильно указаны время и монарх; верно приведён исторический факт	3
Правильно указаны время и монарх. ИЛИ Правильно указано время, верно приведён исторический факт. ИЛИ Правильно указан монарх, верно приведён исторический факт	2
Правильно указано только время. ИЛИ Правильно указан только монарх. ИЛИ Верно приведён только исторический факт	1
Приведены рассуждения общего характера, не соответствующие требованию задания. ИЛИ Ответ неправильный	0
<i>Максимальный балл</i>	<i>3</i>

11

Используя знание исторических фактов, объясните, почему подвиг Ивана Сусанина имел большое значение (важные последствия) в истории нашей страны.

Содержание верного ответа и указания по оцениванию (допускаются иные формулировки ответа, не искажающие его смысла)	Баллы
В ответе должно быть дано <u>объяснение</u> , например: подвиг Ивана Сусанина помешал полякам погубить Михаила Романова избранного Земским собором новым царём. Может быть дано иное объяснение	
Дано объяснение значимости подвига Ивана Сусанина с опорой на исторические факты	2
Объяснение значимости подвига Ивана Сусанина содержит неточность(-и), существенно не искажающую(-ие) ответа. ИЛИ Дано неполное объяснение значимости подвига Ивана Сусанина, отражающее только его второстепенные последствия для истории нашей страны	1
Объяснение значимости подвига Ивана Сусанина сформулировано в общей форме или на уровне обыденных представлений, без привлечения исторических фактов. ИЛИ Приведены рассуждения общего характера, не соответствующие требованию задания. ИЛИ Объяснение значимости подвига Ивана Сусанина не дано	0
<i>Максимальный балл</i>	<i>2</i>

12

Напишите небольшой рассказ на тему «Памятные места моего региона в истории нашей страны». В рассказе необходимо указать не менее двух памятных мест Вашего региона (исторических памятников, памятников культуры, мемориальных досок и т. п.) и охарактеризовать связь этих памятных мест с событиями региональной, российской или мировой истории.

Содержание верного ответа и указания по оцениванию	Баллы
В ответе верно указаны два памятных места региона; правильно охарактеризована связь этих памятных мест с событиями региональной, российской или мировой истории	4
В ответе верно указаны два памятных места региона; при характеристике связи этих памятных мест с событиями региональной, российской или мировой истории допущена(-ы) неточность(-и), существенно не искажающая(-ие) ответа	3
В ответе верно указаны одно-два памятных места региона; правильно охарактеризована связь одного из этих памятных мест с событиями региональной, российской или мировой истории	2
В ответе верно указаны одно-два памятных места региона; охарактеризована связь одного из этих памятных мест с событиями региональной, российской или мировой истории; при характеристике связи этого памятного места с событиями региональной, российской или мировой истории допущена(-ы) неточность(-и), существенно не искажающая(-ие) ответа	1
В ответе верно указаны только одно-два памятных места региона. ИЛИ В ответе верно указаны одно-два памятных места региона, связь этих памятных мест с событиями региональной, российской или мировой истории охарактеризована неправильно. ИЛИ Приведены рассуждения общего характера, не соответствующие требованию задания. ИЛИ Ответ неправильный	0
<i>Максимальный балл</i>	<i>4</i>

Система оценивания выполнения всей работы

Максимальный балл за выполнение работы – 25.

Рекомендации по переводу первичных баллов в отметки по пятибалльной шкале

Отметка по пятибалльной шкале	«2»	«3»	«4»	«5»
Первичные баллы	0–6	7–12	13–18	19–25